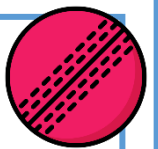
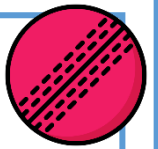
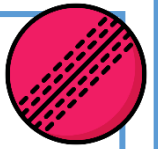
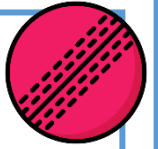


Nombre:

Fecha:

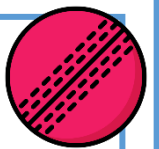
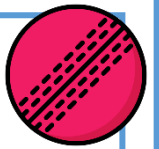

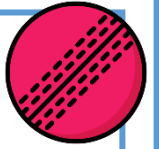
¿Qué dos dianas tiene que golpear la pelota para obtener 10 puntos?



Nombre:

Fecha:

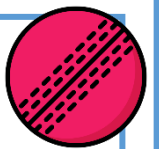
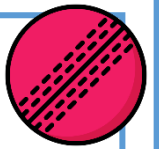

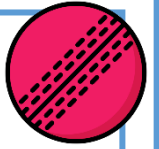
¿Qué dos dianas tiene que golpear la pelota para obtener 10 puntos?



Nombre:

Fecha:

¿Qué tres dianas tiene que golpear la pelota para obtener 10 puntos?



Nombre:

Fecha:

¿Qué tres dianas tiene que golpear la pelota para obtener 10 puntos?

